

Opgave 6 – Brazilië: Regionale verschillen in Brazilië

Bij deze opgave horen de bronnen 15 en 16.

Gebruik de bronnen 15 en 16 en het kaartenkatern.

- 2p 21 Geef
- de reden waarom de sociale ongelijkheid juist in het federale district groot is;
 - een argument om de deelstaat Rondônia niet bij de regio Noord, maar bij de regio Centraal-West in te delen.

Gebruik de bronnen 15 en 16 en het kaartenkatern.

Veel Brazilianen verdienen geld in de informele sector.

- 1p 22 Geef aan waarom het aandeel werkenden in de informele sector in deelstaten als São Paulo en Rio de Janeiro groot is.

Gebruik de bronnen 15 en 16.

De regio Centraal-West (zie bron 15) is een grote exporteur van landbouwproducten en heeft daardoor een relatief hoog bruto regionaal product. Toch is het aandeel werknemers in de landbouw in deze regio relatief klein.

- 2p 23 Beredeneer waarom het aandeel werknemers in de landbouw in de Regio Centraal-West relatief klein is.

Gebruik de bronnen 15 en 16.

Brazilië is in bron 15 verdeeld in vijf regio's. Op basis van de kaarten in bron 16 zou je Brazilië ook in drie regio's kunnen indelen: een centrumregio, een semi-perifere regio en een perifere regio.

- 2p 24 Geef op basis van de kaarten in bron 16 aan
- welke **twee** regio's uit bron 15 je kunt samenvoegen tot de centrumregio van Brazilië;
 - welke **twee** regio's uit bron 15 je kunt samenvoegen tot de perifere regio van Brazilië.

Opgave 6 – Brazilië: Regionale verschillen in Brazilië

bron 15

Administratieve indeling van Brazilië

Brazilië telt 26 deelstaten en één federaal district. De deelstaten en het federale district (Districto Federal) maken deel uit van vijf regio's.



bron 16

Zeven thematische kaarten van Brazilië

Sociaaleconomische ongelijkheid



Legenda:
inkomensverdeling volgens
de GINI-index (schaal van 0 tot 1, 2019)

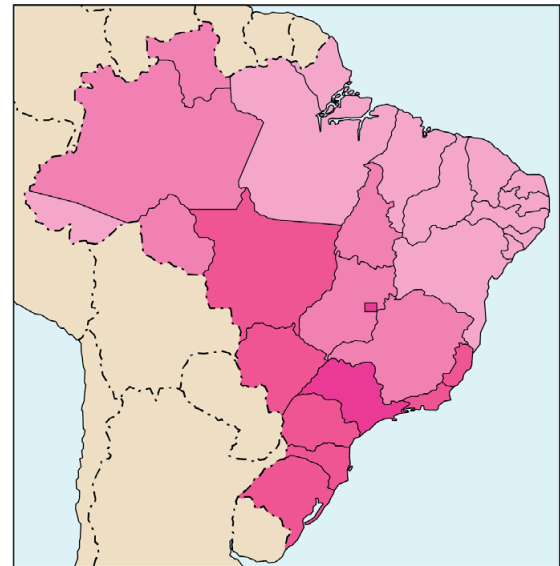
0,42	0,50	0,54	0,58
------	------	------	------

'eerlijk' ← → 'oneerlijk'
inkomensverdeling

Brazilië gemiddeld: 0,54

0 600 1200 km

Bruto regionaal product



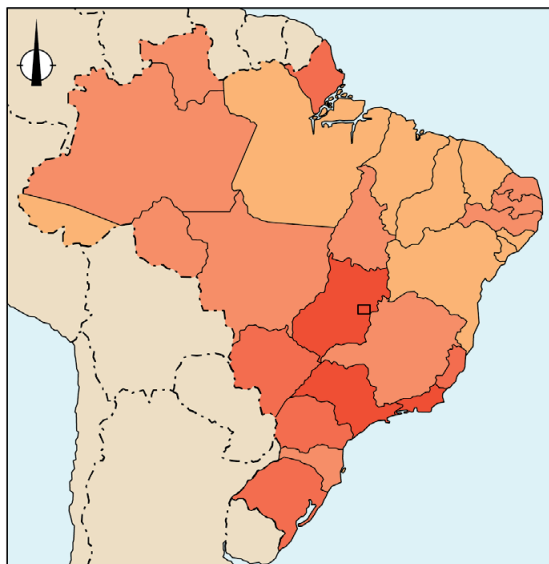
Legenda:
bruto regionaal product
relatief (in euro's per inwoner, per staat, 2018)

3.000	5.000	8.000	11.000	20.000
-------	-------	-------	--------	--------

Brazilië gemiddeld: 7.830

0 600 1200 km

Stedelijke bevolking



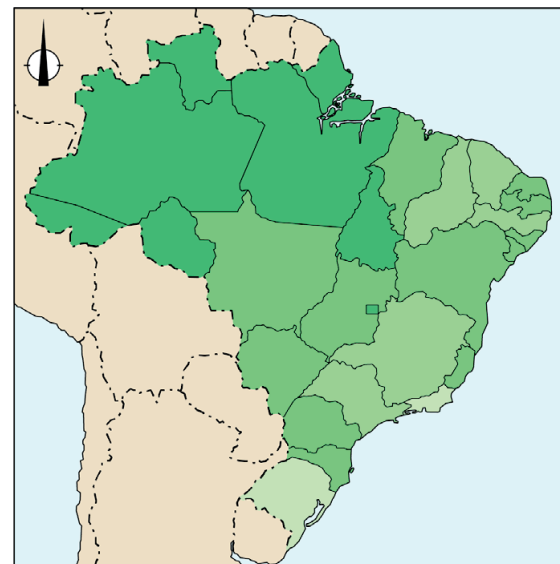
Legenda:
stedelijke bevolking
(in procenten van de totale bevolking,
per staat, 2015)

60	75	85	90	97
----	----	----	----	----

Brazilië gemiddeld: 85

0 600 1200 km

Verstedelijkingstempo



Legenda:
jaarlijkse groei van de
stedelijke bevolking (in procenten per staat,
2000-2015)

2,6	3,0	3,6	5,0	8,8
-----	-----	-----	-----	-----

Brazilië gemiddeld: 3,6

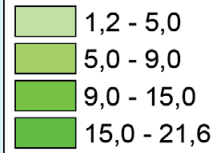
0 600 1200 km

Samenstelling beroepsbevolking in Brazilië



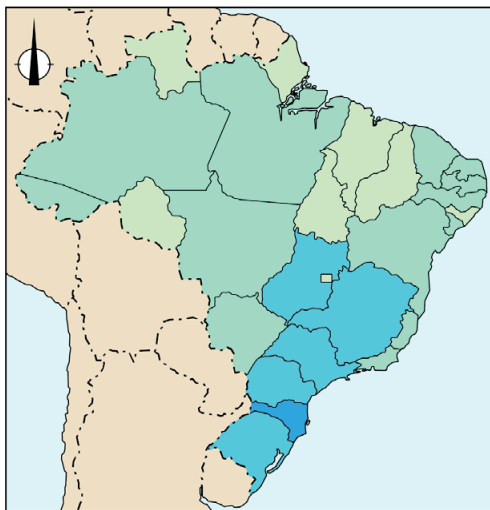
Legenda:

werknemers in de landbouw
(in procenten van totale aantal werknemers, 2019)



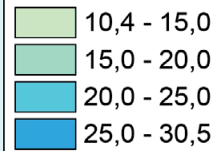
Brazilië gemiddeld: 9,2

0 650 1300 km



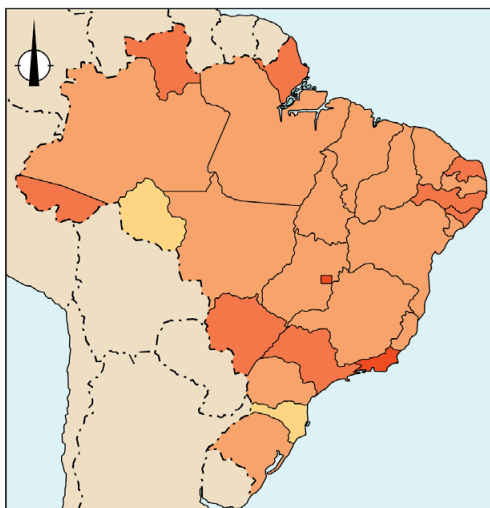
Legenda:

werknemers in de industrie
(in procenten van totale aantal werknemers, 2019)



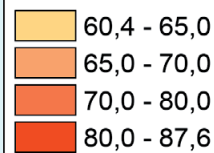
Brazilië gemiddeld: 20,1

0 650 1300 km



Legenda:

werknemers in de dienstverlening
(in procenten van totale aantal werknemers, 2019)



Brazilië gemiddeld: 70,7

0 650 1300 km

Bronvermelding

Een opsomming van de in dit examen gebruikte bronnen, zoals teksten en afbeeldingen, is te vinden in het bij dit examen behorende correctievoorschrift.